

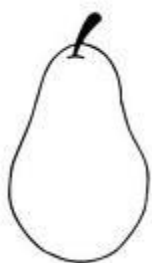
PREVERIMO SVOJE ZNANJE

Datum: _____ Ime in priimek: _____

$4 + 5 = \square$ $10 - 3 = \square$ $6 - 5 = \square$ $6 + 9 = \square$

$5 + 7 = \square$ $15 - 2 = \square$ $10 - 4 = \square$ $13 - 7 = \square$

$2 + 8 = \square$ $14 + 6 = \square$ $12 - 5 = \square$ $15 - 8 = \square$



Eli je imela 12 hrušk. Utrgala je še 4 hruške. Koliko hrušk ima sedaj?

R.: _____

O.: _____

Sandi je imel 16 jabolk. Pojedel je 8 jabolk. Koliko jabolk mu je ostalo?



R.: _____


O.: _____

$22 + 4 = \square$ $20 + 30 = \square$ $76 - 4 = \square$ $34 + 2 = \square$

$32 + 5 = \square$ $70 - 50 = \square$ $49 - 3 = \square$ $78 - 5 = \square$

$58 + 5 = \square$ $10 + 30 = \square$ $73 - 3 = \square$ $88 + 1 = \square$

Lucija je imela 41 sliv. Nabrala jih je še 8. Koliko sliv ima sedaj?



R.: _____

O.: _____

$$23 + 41 = \square \quad 65 + 32 = \square \quad 28 - 16 = \square \quad 79 - 34 = \square$$

$$45 + 34 = \square \quad 87 - 36 = \square \quad 92 - 31 = \square \quad 44 + 44 = \square$$

$$32 + 23 = \square \quad 43 - 11 = \square \quad 68 + 20 = \square \quad 67 - 35 = \square$$

Sara je nabrala 34 jurčkov. Našla je še 25 jurčkov. Koliko jih ima sedaj?



R.: _____

O.: _____

Žan je spekel 67 kostanjev. 15 jih je pojedel. Koliko kostanjev mu je ostalo?



R.: _____

O.: _____

PREVERIMO SVOJE ZNANJE

Datum: _____ Ime in priimek: _____

$4 + 5 = 9$

$10 - 3 = 7$

$6 - 5 = 1$

$6 + 9 = 15$

$5 + 7 = 12$

$15 - 2 = 13$

$10 - 4 = 6$

$13 - 7 = 6$

$2 + 8 = 10$

$14 + 6 = 20$

$12 - 5 = 7$

$15 - 8 = 7$



Eli je imela 12 hrušk. Utrgala je še 4 hruške. Koliko hrušk ima sedaj?

R.: $12 + 4 = 16$

O.: Sedaj ima 16 hrušk.

Sandi je imel 16 jabolk. Pojedel je 8 jabolk. Koliko jabolk mu je ostalo?

R.: $16 - 8 = 8$

O.: Ostalo mu je 8 hrušk.



$22 + 4 = 26$

$20 + 30 = 50$

$76 - 4 = 72$

$34 + 2 = 36$

$32 + 5 = 37$

$70 - 50 = 20$

$49 - 3 = 46$

$78 - 5 = 73$


$58 + 5 = 63$

$10 + 30 = 40$

$73 - 3 = 70$

$88 + 1 = 89$

Lucija je imela 41 sliv. Nabrala jih je še 8. Koliko sliv ima sedaj?



R.: $41 + 8 = 49$

O.: Sedaj ima 49 sliv.

$$23 + 41 = 64$$

$$65 + 32 = 97$$

$$28 - 16 = 12$$

$$79 - 34 = 45$$

$$45 + 34 = 79$$

$$87 - 36 = 51$$

$$92 - 31 = 61$$

$$44 + 44 = 88$$

$$32 + 23 = 55$$

$$43 - 11 = 32$$

$$68 + 20 = 88$$

$$67 - 35 = 32$$

Sara je nabrala 34 jurčkov. Našla je še 25 jurčkov. Koliko jih ima sedaj?



R.: $34 + 25 = 59$

O.: Sedaj jih ima 59.

Žan je spekel 67 kostanjev. 15 jih je pojedel. Koliko kostanjev mu je ostalo?



R.: $67 - 15 = 52$

O.: Ostalo mu je 52 kostanjev.