



Naloge

1. Nariši simetrale.



2. Dobro si ogledaj spodnji slike. Ali sta stavbi na slikah popolnoma simetrični?

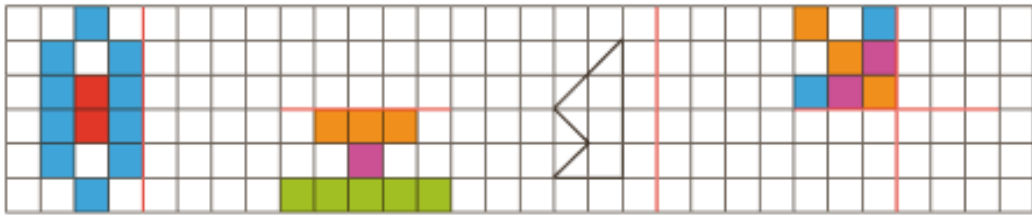


Več sto let nazaj, ko sta nastali stavbi zgoraj, so bile v arhitekturi moderne simetrične oblike. Današnji arhitekti pa radi delajo načrte tudi za nesimetrične stavbe, kot je tale na sliki desno.





3. Prek simetrale dopolni like tako, da bo slika simetrična.



4. Nariši kvadrat s stranico $a = 28$ mm in pravokotnik s stranicama $a = 21$ mm, $b = 36$ mm.
Nariši jima vse simetrale.
Nariši še krog s polmerom 2 cm. Koliko simetral ima krog?

5. Prometnim znakom nariši simetrale. Obkroži znak za nevarnost.

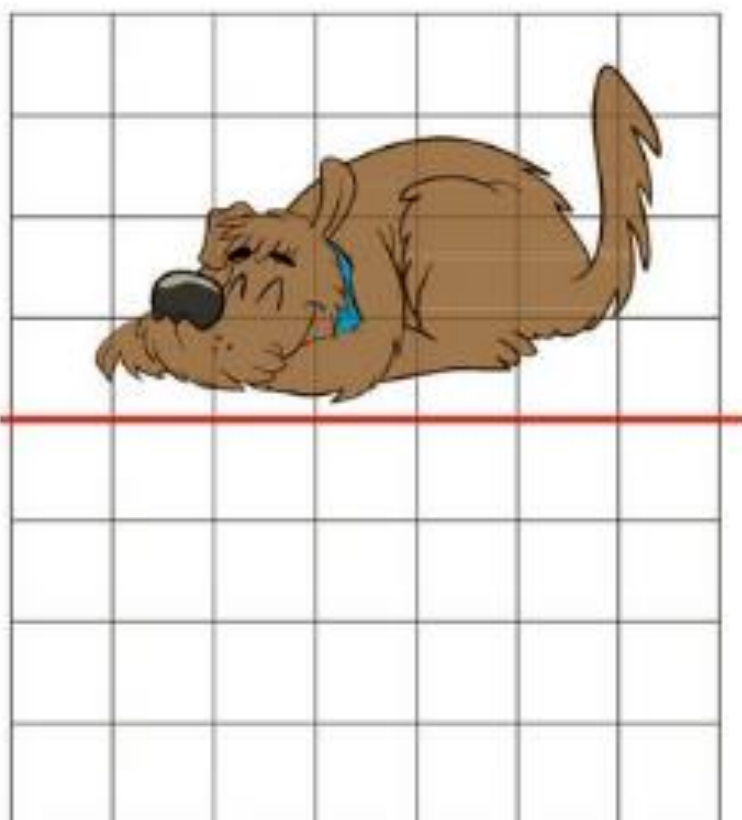



6. Napiši dve števki in tri velike tiskane črke, ki imajo vsaka po dve simetrali. Simetrale nariši.



Zmorem tudi to

1. Dopolni tako, da bosta sliki zrcalni. Sliki pobarvaj.



Videti je, kot bi gledal svoj odsev v vodi.



