

PREVERIMO, KAJ SMO SE NAUČILI

1. Vstavi znake > ali < ali = .

2h	120 min	4 h 10 min	251 min
5 min	320 s	3 min 7 s	128 s
2 dni	47 h	1 teden	168 h
12 min	11 h	4 h	240 s
3 tedne	22 dni	360 dni	1 leto

2. Pretvori.

4 l =	dl	8 l 3 dl =	dl	6 l =	dl
70 dl =	l	2 hl =	l	7 hl 4 l =	l
209 l =	hl l	760 l =	hl l	89 dl =	l dl

3. V trgovino so pripeljali 5 hl 60 l soka.
Prvi dan so prodali 60 l, drugi dan 2 x več kot prvi. Koliko soka l je še ostalo?

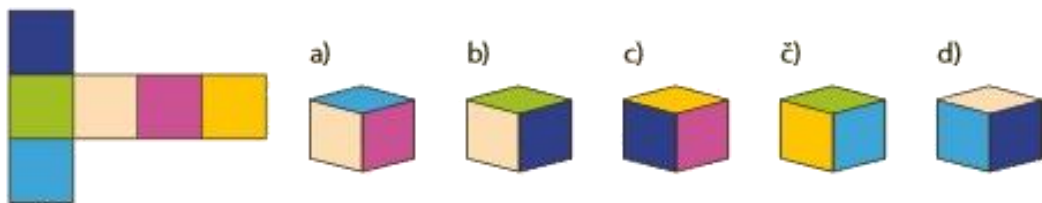
4.

Dopolni preglednico.

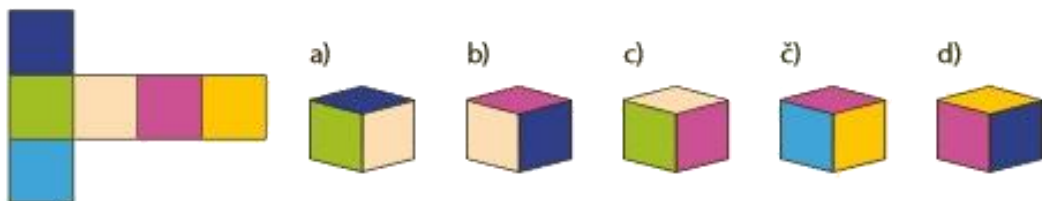
skica	ime	lik/telo	število oglišč	število stranic	število robov	št. mejnih ploskev
						
						
						
						
						
						
						
						
	pravokotnik					
	kvader					
	stožec					

5. Katerih kock ne moreš sestaviti iz mreže?

1.




2.

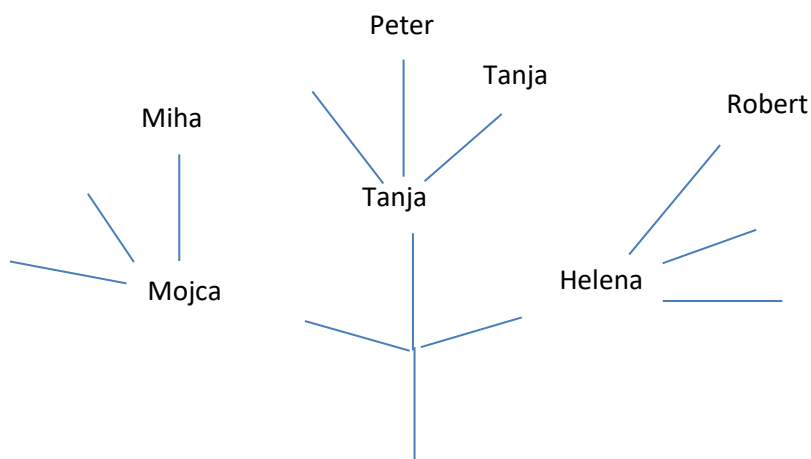


6.

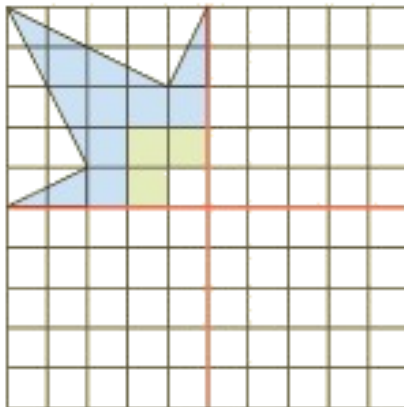
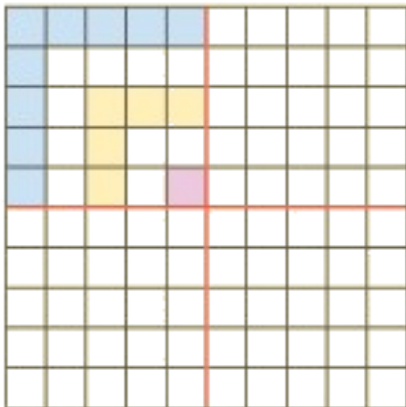
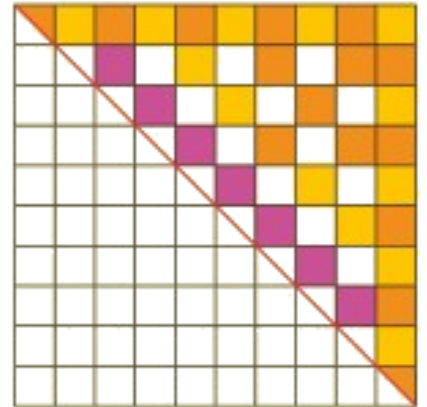
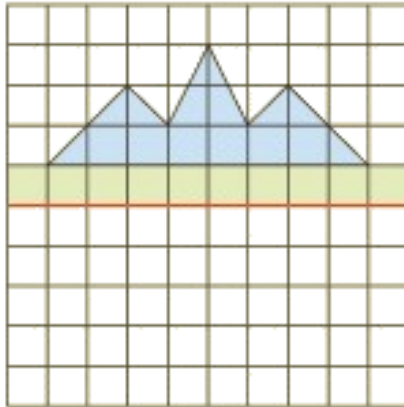
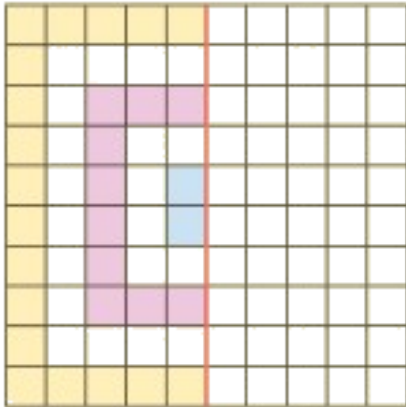
V plesni šoli so se plesalke Helena, Mojca in Tanja ter plesalci Miha, Peter in Robert pripravljali na tekmovanje. Plesno šolo bo predstavljal le en par. Sestavi različne možnosti. Dopolni prikaze.



	Mojca		
Robert			
			Miha, Tanja
Peter			



7. Doriši.



8. Nadaljuj zaporedja in vzorce.

