

DRU – Utrjevanje

Na koncu tega dokumenta je učni list **DOMAČA POKRAJINA**. Preberi ga in manjkajoče besede zapiši v zvezek (besedila ni treba prepisovati). Naslednjič ti pošljem rešitve, da si boš lahko pregledal. Najdeš pa čisto vse odgovore v zvezku.

MAT – Deli celote

- Najprej preveri, če si včeraj prav reševal. Glej rešitve spodaj...


Preverim svoje znanje

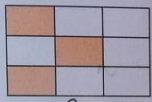
1. Zapiši krajše.

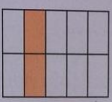
štiri šestine $\frac{4}{6}$ dve tretjini $\frac{2}{3}$

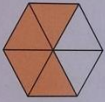
tri petine $\frac{3}{5}$ dve devetini $\frac{2}{9}$ ena četrtnina $\frac{1}{4}$


2. Kolikšen del lika je pobarvan? Zapiši krajše.

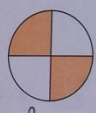
 $\frac{1}{4}$

 $\frac{3}{9}$ ali $\frac{1}{3}$


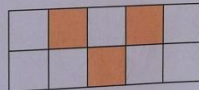

 $\frac{2}{10}$ ali $\frac{1}{5}$

 $\frac{4}{6}$ ali $\frac{2}{3}$


 $\frac{2}{6}$ ali $\frac{1}{3}$


 $\frac{2}{4}$ ali $\frac{1}{2}$



3. Na kateri sliki je pobarvano $\frac{3}{5}$ pravokotnika?

(A)  (B)  (C) 

4. Poveži zapis z ustreznim prikazom.

$\frac{1}{4}$ od 20 = 5 

$\frac{1}{5}$ od 15 = 3 

$\frac{1}{3}$ od 15 = 5  

5. Klavdija ima 9 barvic. Tretjina njenih barvic je rdečih. Koliko rdečih barvic ima Klavdija?

Odgovor: Klavdija ima 3 rdeče barvice.

$\frac{1}{3}$ od 9 = 3

105

6. Izračunaj dele celote.

$$\frac{1}{2} \text{ od } 20 = 10 \quad \frac{1}{3} \text{ od } 27 = 9 \quad \frac{1}{6} \text{ od } 42 = 7 \quad \frac{1}{7} \text{ od } 21 = 3$$

$$\frac{1}{5} \text{ od } 15 = 3 \quad \frac{1}{4} \text{ od } 32 = 8 \quad \frac{1}{8} \text{ od } 8 = 1 \quad \frac{1}{9} \text{ od } 18 = 2$$

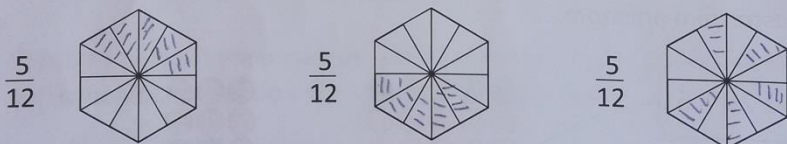
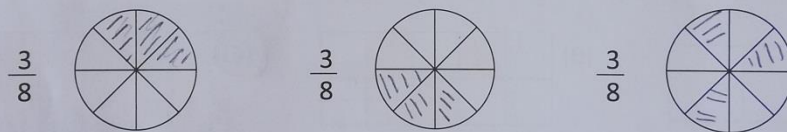

7. Določi celoto.

$$\frac{1}{3} \text{ od } 27 = 9 \quad \frac{1}{10} \text{ od } 40 = 4 \quad \frac{1}{5} \text{ od } 15 = 3 \quad \frac{1}{4} \text{ od } 20 = 5$$

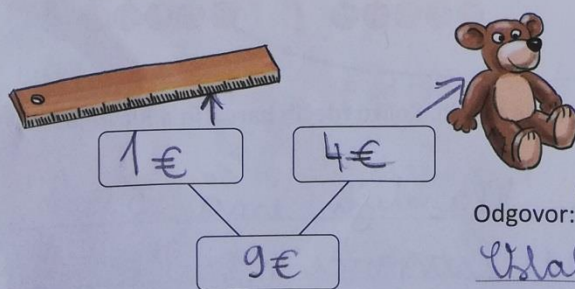
$$\frac{1}{2} \text{ od } 20 = 10 \quad \frac{1}{7} \text{ od } 63 = 9 \quad \frac{1}{9} \text{ od } 9 = 1 \quad \frac{1}{6} \text{ od } 36 = 6$$

8. Pobarvaj zapisani del celote na več različnih načinov.

OP: SEM ŠRAFIRALA.



9. Maja je imela v denarnici 9 €. Za nakup ravnila je porabila ^{1/3} devetino denarja. $\frac{1}{3} \text{ od } 9 = 1$
 Za nakup plišastega medvedka je porabila polovico preostalega denarja.
 Koliko sta izdelka stala? Koliko denarja ji je ostalo?



$$\frac{1}{2} \text{ od } 8 = 4$$

$$1€ + 4€ = 5€$$

Odgovor: Izdelka sta stala 5€.

Ostali so ji 4€.

$$9€ - 5€ = 4€$$

- Za ponovitev priporočam ogled posnetka:

<https://www.youtube.com/watch?v=O2wm1pUGZ0>

- Sedaj reši str. 107 in 108.

SLJ – Beseda iz besede

- Nadaljuj z reševanjem nalog na str. 68 in str. 69 (Pri 9. nalogi je prvi primer: Študentski popust je za študente. Tako rešuješ naprej. Pri ostalih nalogah »tvori po zgledu« ti s primerom ponazorijo, na kakšen način rešuješ nalogo.)
- Sedaj si preglej rešene naloge.
<https://www.devetletka.net/index.php?r=downloadMaterial&id=1035&file=1>

učni list za DRU... **DOMAČA POKRAJINA - ponavljanje**

Strokovnjaku za izdelavo zemljevidov pravimo _____.

Pri izdelovanju zemljevidov in načrtov, so mu v pomoč _____ fotografije.

Legra na pobočju, obrnjenem proti soncu, je _____ lega.

Legra na pobočju, obrnjenem od sonca, je _____ lega.

Postojna leži v _____ delu Slovenije na rahlo _____ svetu.

Naša domača pokrajina se imenuje _____.

Obsega _____ in _____.

Pivško kotlino obdajajo _____, _____, _____,
_____, _____ in _____.

Reka Pivka izvira pri _____. Njena večja pritoka sta
_____ in _____.

Pivka do Prestranka teče po _____ tleh, od tam naprej pa po
_____.

Mesto, kjer rekla ponikne, imenujemo _____.

Včasih so moč reke Pivke izkoriščali za delovanje _____ in
_____.

V naši domači pokrajini imamo veliko _____ jezer.

Nekaj jih naštej: _____ ...

Kamnina, ki prevladuje v naši pokrajini, se imenuje _____.

Ima veliko _____, saj ga raztaplja _____.

Postojnsko jamo je izdolbla reka _____.

Kapnik, ki visi s stropa, se imenuje _____. Kapnik, ki raste proti stropu, se imenuje _____.

Ko se viseči in stoječi kapnik združita, nastane _____. Če pa kapljice drsijo po poševnem stropu pa nastane kapnik, ki ga imenujemo _____.

Kapniki so iz _____.

Nove dele jame je odkril _____.

Navodila za učence, ki obiskujejo SUP pri učiteljici Tanji J. Primc ob četrtkih od 7.30 do 8.15:

Pojdi na naslednje spletne povezave in rešuj naloge, ki so povezane s pravilnim zapisom besed; razmisli ali pri besedi zapišemo črko **d** ali **t**, **p** ali **b**, **ž** ali **š** ...

<https://interaktivne->

[vaje.si/slovenscina_rs/gradiva_slovenscina/gradiva_slo_rs/tezke_besede_J/index.html](https://interaktivne-vaje.si/slovenscina_rs/gradiva_slovenscina/gradiva_slo_rs/tezke_besede_J/index.html)

<https://www.thatquiz.org/sl/practicetest?1w4ln13w82q8>